

LA TIERRA

LA TIERRA

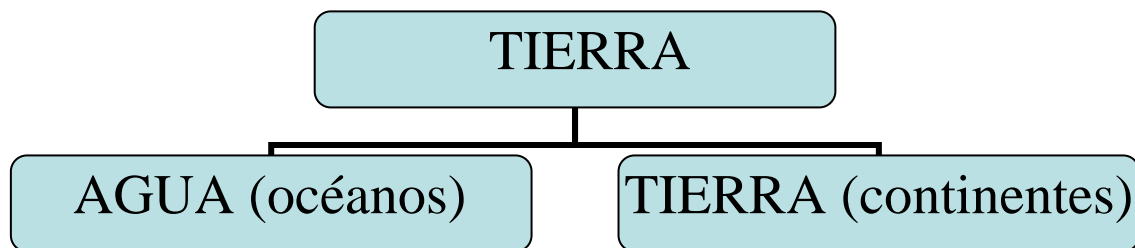


La tierra es un planeta.

La tierra es el planeta donde vivimos.

Las personas vivimos en el planeta tierra.

La tierra está formada por agua (mares y océanos) y por tierra (continentes, islas).




La **Tierra** se mueve (gira).

La tierra tarda **24 horas** en dar una vuelta sobre si misma

· Cuando la **Tierra se mueve se forma la noche (no da el sol) y**

el día (si da el sol).

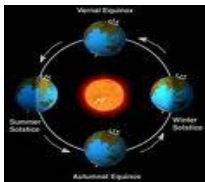


Esto se llama movimiento de **rotación**.



ROTACIÓN = La Tierra gira sobre si misma. = **día y noche**

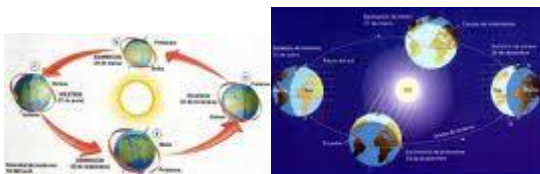
También la tierra gira alrededor del sol y tarda **365 días en dar la vuelta**.



Con esto se forman las estaciones del año (primavera, verano, otoño e invierno)

Esto se llama movimiento de **traslación**.

TRANSLACIÓN = La tierra gira alrededor del sol = **estaciones del año**

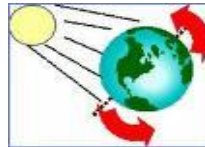


EL SOL, EL DIA Y LA NOCHE

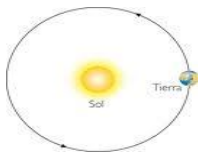
El sol es una estrella. Es como una bola de fuego.



El sol da luz y calor a la tierra.



El Sol es más grande que la Tierra y está muy lejos.



La luz y el calor del sol son muy importantes para vivir.

Cuando el sol le da a una parte de la tierra es de día.
Cuando el sol no le da su luz a la tierra es de noche.



LA LUNA



La luna es el **satélite** de la Tierra.



La luna brilla porque el sol le da luz.




La luna gira alrededor de de la Tierra. Tarda **28 días** en dar

la vuelta.



La tierra gira sobre sí misma – **ROTACIÓN** - 24 HORAS – **DÍA**


Y NOCHE.





La tierra gira alrededor del sol- **TRANSLACIÓN** – 365 **DÍAS**-
ESTACIONES DEL AÑO (primavera, verano, otoño, invierno)



La luna gira alrededor de la tierra- **28 DÍAS**- (luna llena,
cuarto menguante, luna nueva y cuarto creciente)



LAS FASES DE LA LUNA



LUNA LLENA LUNA CRECIENTE LUNA MENGUANTE LUNA NUEVA



LOS PLANETAS

Hay 8 planetas.

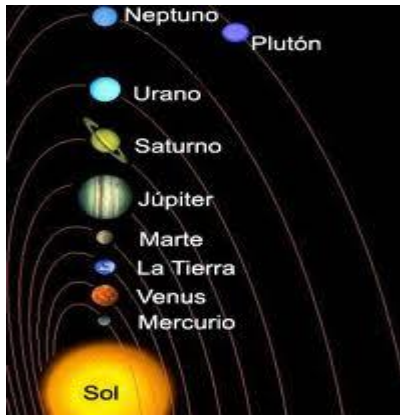
Alrededor del sol giran **8 planetas.**

Los 8 planetas son:

Vivimos nosotros

Mercurio, Venus, **Tierra**, Marte (están cerca del sol)

Júpiter, Saturno, Urano y Neptuno (están lejos del sol)



Los planetas, el Sol, los meteoritos y los cometas forman el **sistema solar**

sol planetas cometas y meteoritos

LOS PUNTOS CARDINALES



Los **puntos cardinales** sirven para orientarnos (saber donde estamos y donde vamos)

El sol sale por el este y se va por el oeste.

SATÉLITES ARTIFICIALES



Son naves que giran alrededor de la tierra para saber cosas de la tierra. El tiempo (si llueve, si hace sol...)

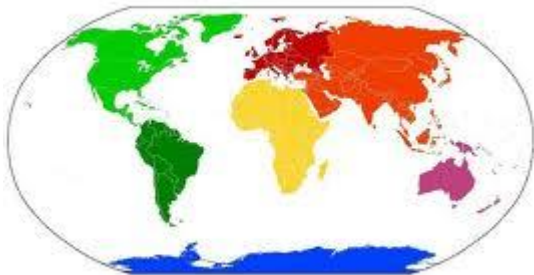
EL GLOBO TERRÁQUEO



En el globo terráqueo vemos:

- **Los polos:** polo norte y polo sur.
- **El Ecuador:** Divide la tierra en **hemisferio norte** y **hemisferio sur**.

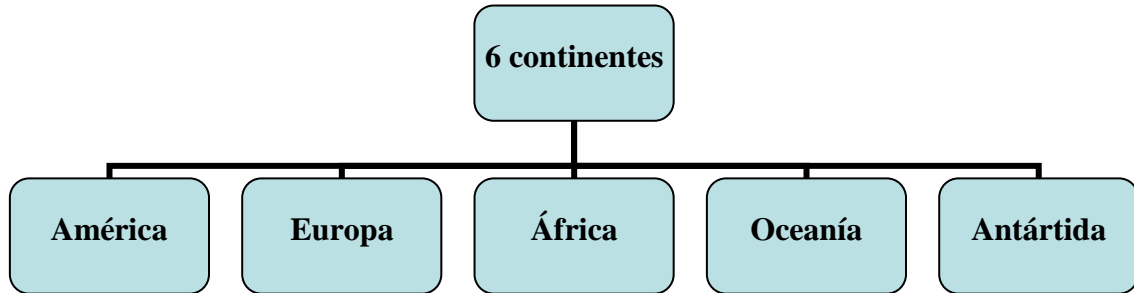
EL MAPA DEL MUNDO



Un mapa es un dibujo de la tierra o de una parte de la tierra. Cuando el mapa es de toda la tierra se llama **mapamundi**.

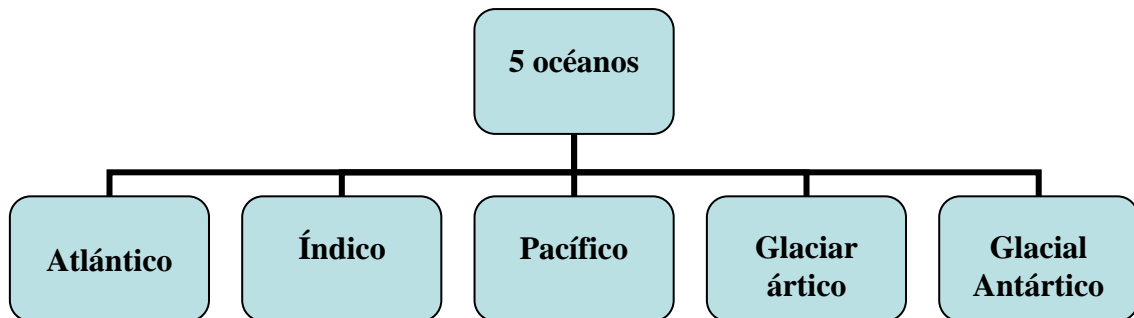
En el este mapamundi vemos:

Los **6 continentes**: América, Europa, Asia, África, Oceanía y la Antártica.



España está en el continente de **Europa**

Los **5 océanos**: Atlántico, Índico, Pacífico, Glacial Ártico, Glacial Antártico.



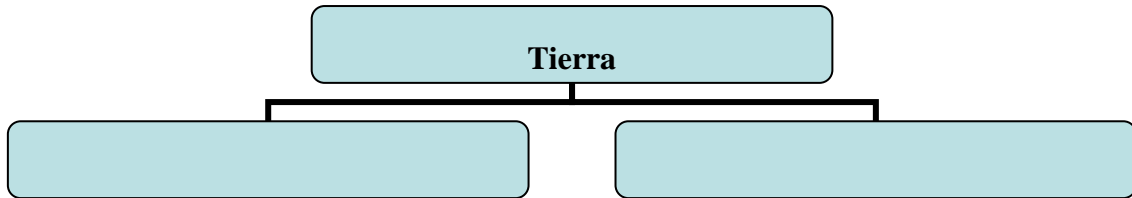
EJERCICIOS

1. Escribe la palabra que falta.

La Tierra es un_____.

Las personas vivimos en el planeta_____.

La Tierra tiene



La Tierra es el _____de la Tierra.

La tierra gira sobre si misma, esto se llama movimiento de_____. Tarda____horas en dar la vuelta. Se forma el_____y la_____.

La tierra gira alrededor del _____. Esto se llama movimiento de_____. Tarda_____días. Se forma las _____ del año.

La luna gira alrededor de la_____. Tarda _____días.

El sol es una_____.

2. Di si estas frases son verdaderas o falsas.

Hay 10 planetas._____

Las personas vivimos en el planeta Martes._____

Cuando la tierra gira alrededor del sol se llama translación_____

La Tierra no se mueve._____

La luna es el satélite de la Tierra_____

Hay 5 estaciones del año._____

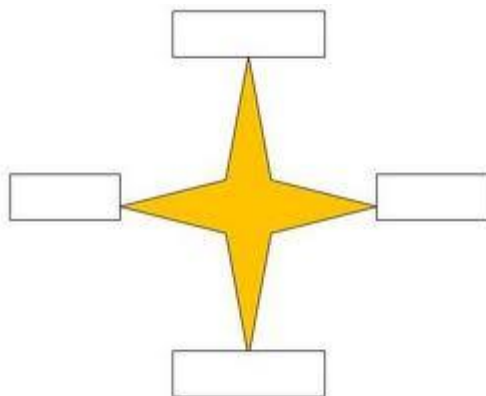
Cuando el sol le da a la Tierra es de noche_____

Los puntos cardinales son Norte, Sur, Este y Oeste_____

La Tierra tarda 365 días en dar la vuelta al Sol._____

Hay 6 continentes en la Tierra_____

3. Coloca los 4 puntos cardinales.



4. Coloca el nombre de los continentes y los océanos.



5. Señala el ecuador, el polo norte, el polo sur, el hemisferio norte y el hemisferio sur.



Esto es un _____

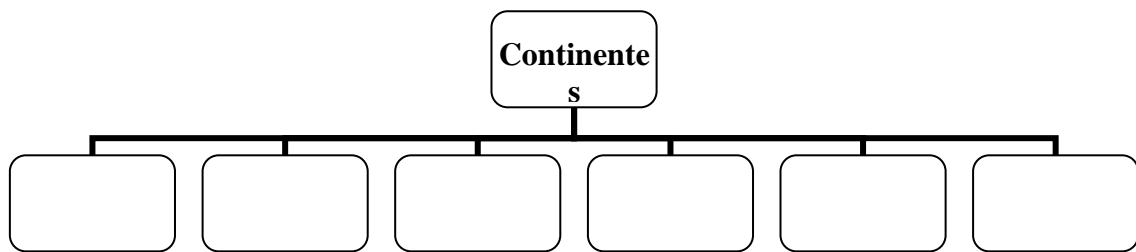
6. Une con la respuesta correcta.

Es un dibujo de la Tierra o de parte de ella.

Un mapa

Es un globo terráqueo para saber donde estamos.

7. Escribe los 6 continentes.



8. Escribe los 5 océanos.

